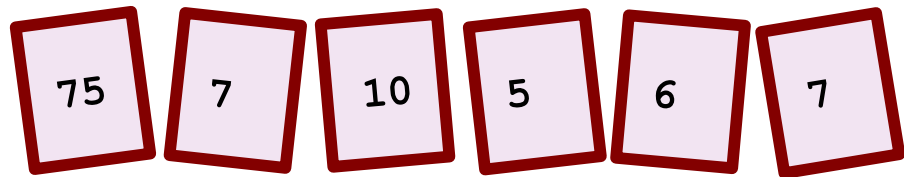


♥ Jouons ensemble.


Jeu 1 :

Le compte est bon ! et vous ?



Jeu 2:

Trouve le mot Mathématique caché !



♥ Jouons ensemble.- Correction -

Jeu 1 :

Le compte est bon ! et vous ?




Mes solutions :

- $996 = 10 + 6 + (7 + 7) \times (75 - 5)$

Jeu 2:

Trouve le mot Mathématique caché !



La solution : TANGENTE

Dans un triangle rectangle, la tangente d'un angle est le rapport de la longueur du côté opposé par la longueur du côté adjacent.