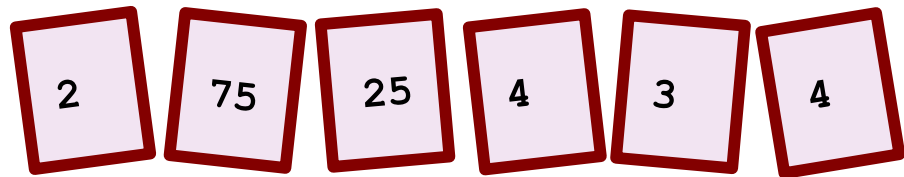


## ♥ Jouons ensemble.


### Jeu 1 :

Le compte est bon ! et vous ?



### Jeu 2:

Trouve le mot Mathématique caché !



## ♥ Jouons ensemble.- Correction -

### Jeu 1 :

Le compte est bon ! et vous ?




### Mes solutions :

- $985 = (25+4+75 \times 4) \times 3 - 2$
- $985 = 4+3 \times (25+75 \times 4+2)$
- $985 = (25 \times (75+4)+3) \times 2 - 4$
- $985 = (25+75 \times 4+4) \times 3 - 2$

### Jeu 2:

Trouve le mot Mathématique caché !



### La solution : COSINUS

Dans un triangle rectangle, le cosinus d'un angle est le rapport de la longueur du côté adjacent par la longueur de l'hypoténuse.