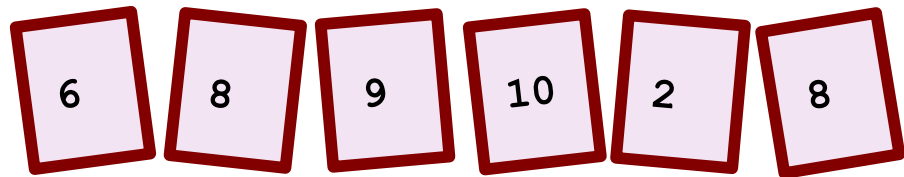


♥ Jouons ensemble.


Jeu 1 :

Le compte est bon ! et vous ?



Jeu 2:

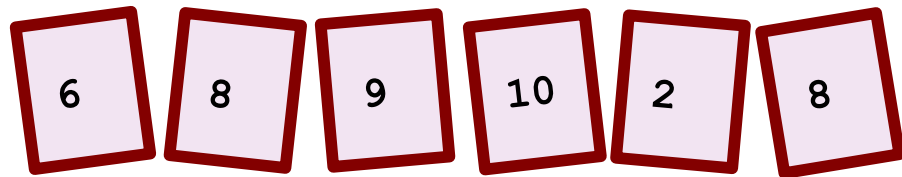
Trouve le mot Mathématique caché !



♥ Jouons ensemble.- Correction -

Jeu 1 :

Le compte est bon ! et vous ?




Mes solutions :

- $937 = 9 + 8 \times (10 + 8 \times 6) \times 2$
- $937 = 9 + (8 + 8) \times (10 \times 6 - 2)$

Jeu 2:

Trouve le mot Mathématique caché !



La solution : TANGENTE

Dans un triangle rectangle, la tangente d'un angle est le rapport de la longueur du côté opposé par la longueur du côté adjacent.