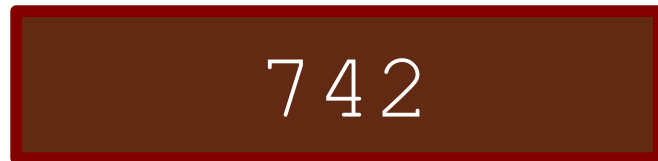



♥ Jouons ensemble.


Jeu 1 :

Le compte est bon ! et vous ?



Jeu 2:

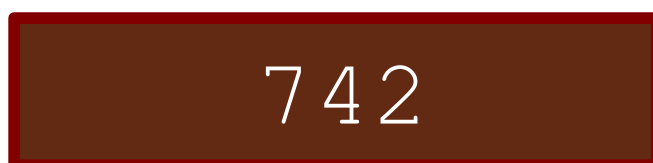

Trouve le mot Mathématique caché !



♥ Jouons ensemble.- Correction -

Jeu 1 :

Le compte est bon ! et vous ?




Mes solutions :

- $742 = 7 \times (75 + 6 \times 5 + 1)$
- $742 = 7 \times (6 + 75 \times (5 - 1) / 3)$
- $742 = 6 + (75 \times 5 - 7) \times (3 - 1)$
- $742 = 5 + (75 + 7) \times (6 + 3) - 1$
- $742 = (6 + 3) \times (75 + 7 + 1) - 5$
- $742 = 75 \times 6 \times 5 / 3 - (7 + 1)$

Jeu 2:

Trouve le mot Mathématique caché !



La solution : DIAMÈTRE

Les éléments de géométrie sont étudiés au cycle 3