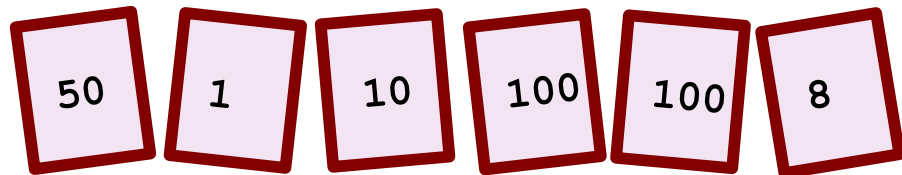


## ♥ Jouons ensemble.


### Jeu 1 :

Le compte est bon ! et vous ?



### Jeu 2:

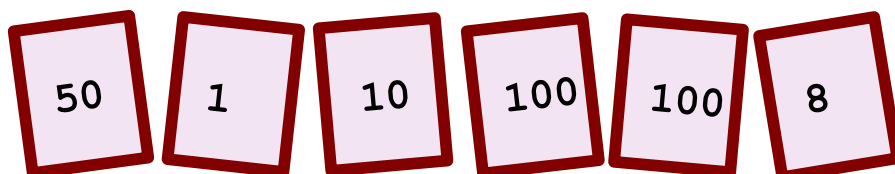
Trouve le mot Mathématique caché !



## ♥ Jouons ensemble.- Correction -

### Jeu 1 :

Le compte est bon ! et vous ?




### Mes solutions :

- $269 = 100 + 100 + 50 + 10 + 8 + 1$
- $269 = 100 \times (100 + 8) \div (50 - 10) - 1$

### Jeu 2:

Trouve le mot Mathématique caché !



### La solution : PERPENDICULAIRE

Les parallèles et les perpendiculaires sont étudiées au cycle 3.