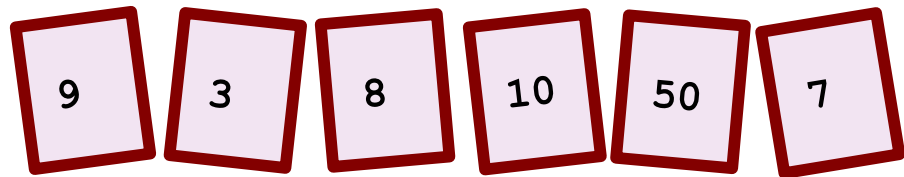


♥ Jouons ensemble.


Jeu 1 :

Le compte est bon ! et vous ?



Jeu 2:

Trouve le mot Mathématique caché !



♥ Jouons ensemble.- Correction -

Jeu 1 :

Le compte est bon ! et vous ?




Mes solutions :

- $985 = 50 \times (10 + 9) + 7 \times (8 - 3)$
- $985 = 8 + (50 + 10 \times 9) \times 7 - 3$
- $985 = 8 + 7 \times (50 \times 3 - 9) - 10$
- $985 = 50 \times (8 + 9 \times 7 \times 3) / 10$
- $985 = (50 \times 7 - (10 + 9)) \times 3 - 8$
- $985 = 7 \times (50 \times 3 - 8) - 9$

Jeu 2:

Trouve le mot Mathématique caché !



La solution : COSINUS

Dans un triangle rectangle, le [cosinus](#) d'un angle est le rapport de la longueur du côté adjacent par la longueur de l'hypoténuse.