


## ♥ Jouons ensemble.


### Jeu 1 :

Le compte est bon ! et vous ?



### Jeu 2:

Trouve le mot Mathématique caché !



## ♥ Jouons ensemble.- Correction -

### Jeu 1 :

Le compte est bon ! et vous ?




### Mes solutions :

- $429 = 10 \times (25 + 9 + 8) + 8 + 1$
- $429 = 8 + 10 \times (25 + 9 + 8) + 1$
- $429 = 9 + 10 \times (25 + 8 + 8 + 1)$
- $429 = (9 \times 8 - (25 + 8)) \times (10 + 1)$
- $429 = (8 \times 8 - 25) \times (10 + 1)$

### Jeu 2:

Trouve le mot Mathématique caché !



### La solution : COSINUS

Dans un triangle rectangle, le cosinus d'un angle est le rapport de la longueur du côté adjacent par la longueur de l'hypoténuse.